

<p align="center">Жалпы білім беретін пәндер бойынша 7-8 сынып оқушыларына арналған Республикалық олимпиадасының аудандық кезеңі - 2025</p>	<p align="center">Районный этап республиканской олимпиады для учащихся 7-8 классов по общеобразовательным предметам - 2025</p>
--	---

География

8 сынып. Аудандық кезең

Барлық жауаптарда тек 1 дұрыс жауап бар

1-15 сұрақтар 1 ұпаймен бағаланады

- Құмтас, доломит, әктас қандай жыныс түріне жатады?
 - Магмалық
 - Шөгінді
 - Метаморфтық
 - Эффузивті
 - Интрузивтік
- Қандай модель жүйе элементтерін, жүйе ішіндегі элементтер арасындағы байланыстарды және белгілі бір элементтердің қоршаған ортамен байланысын көрсетеді?
 - Картографиялық
 - Графикалық
 - Құрылымдық
 - Математикалық
 - Материалдық
- "Әнші құмдар" орналасқан облыс
 - Ақмола облысы
 - Жамбыл облысы
 - Жетісу облысы
 - Қызылорда облысы
 - Маңғыстау облысы
- Бірдей қысымдағы нүктелерді қосатын сызықтар
 - Изотермалар
 - Изогипсалар
 - Изогалиналар
 - Изобаралар
 - Изохрондар
- Антициклон үшін дұрыс сипаттаманы анықтаңыз
 - Ауа перифериядан орталыққа қарай жылжиды
 - Қатты желдер
 - Солтүстік жартышарда сағат тіліне қарсы бағытта қозғалады
 - Ортасында қысымы төмен
 - Төмен ылғалдылық
- Атмосфералық фронт - бұл
 - Жоғары биіктіктегі атмосфера қабаттары арасындағы шекара
 - Жер бетіне параллель қозғалатын ауа ағыны
 - Қасиеттері әртүрлі екі ауа массасының арасындағы шекара
 - Тұрақты жоғары қысымды аймақ
 - Дауылдар мен циклондардың пайда болу аймағы

7. Кёппен климат классификациясы бойынша Дубай қаласы:

- A) Cfa
- B) BSk
- C) Dfb
- D) BWh
- E) ET

8. Муссондар қай елдерде ерекше байқалады?

- A) Египет және Судан
- B) Қытай және Жапония
- C) Бразилия және Аргентина
- D) Ресей және Қазақстан
- E) Канада және Норвегия

9. Әлемдегі ең суы мол өзен

- A) Миссисипи
- B) Еділ
- C) Ертіс
- D) Ніл
- E) Амазонка

10. Егер таудың етегіндегі ауа температурасы 16°C болса, 3000 м биіктіктегі ауа температурасы қанша болатынын есептеңіз

- A) -2
- B) 14.2
- C) -14
- D) 13
- E) 2



11.

Бұл қақпалар қай діннің объектісі болып табылады

- A) Синтоизм
- B) Индуизм
- C) Иудаизм
- D) Зороастризм
- E) Буддизм

12. Солтүстік Америкадағы ең биік нүкте

- A) Аконкагуа
- B) Митчелл
- C) Килиманджаро
- D) Денали
- E) Чогори

13. Бенин астанасы

- A) Порто-Ново
- B) Уагадугу
- C) Рабат
- D) Абуджа
- E) Банги

14. Қазақстанның қай өңірінде алғашқы АЭС салу жоспарлануда?

- A) Қарағанды
 - B) Алматы
 - C) Жамбыл
 - D) Жетісу
 - E) Маңғыстау
15. Қазақтардың ең үлкен диаспорасы орналасқан ел
- A) Қытай
 - B) Ресей
 - C) Өзбекстан
 - D) Түркия
 - E) Кыргызстан

16-25 аралығындағы сұрақтар 2 ұпаймен бағаланады



16. Бұл мүсін орналасқан ел:
- A) Ватиканда
 - B) Испанияда
 - C) Францияда
 - D) Аргентинада
 - E) Бразилияда
17. Тізімдегі қай сөз артық? Париж, Сеул, Мальта, Каир, Амстердам
- A) Париж
 - B) Сеул
 - C) Мальта
 - D) Каир
 - E) Амстердам
18. Дунай өзенінің еңістігін есептеңіз, егер оның бастауы 678 м биіктікте, ал ұзындығы 2850 км болса
- A) 23.8см/м
 - B) 237м/км
 - C) 23.8м/км
 - D) 237см/км
 - E) 23.8см/км
19. Қай астананың атауы "астана" деп аударылады
- A) Париж
 - B) Сеул
 - C) Джакарта
 - D) Каир
 - E) Амстердам
20. Метаморфизмнің қандай түрі жоқ
- A) Дислокациялық

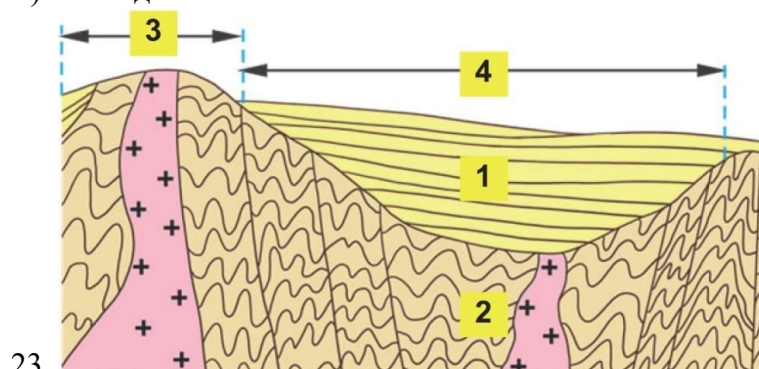
- В) Аймақтық
- С) Метасоматоз
- Д) Контакттылық
- Е) Орографиялық

21. Таулары ел аумағының шамамен 98% алып жатқан ең таулы мемлекет

- А) Бутан
- В) Қазақстан
- С) Непал
- Д) Тәжікстан
- Е) Чили

22. Ең көне ту қай елге тиесілі

- А) Норвегия
- В) Дания
- С) Швейцария
- Д) Португалия
- Е) Исландия



1 нөмірімен не көрсетілген?

- А) Шөгінді қабат
- В) Фундамент
- С) Қалқан
- Д) Тақта
- Е) Геосинклиналь

24. 3 нөмірімен не көрсетілген?

- А) Шөгінді қабат
- В) Фундамент
- С) Қалқан
- Д) Тақта
- Е) Геосинклиналь

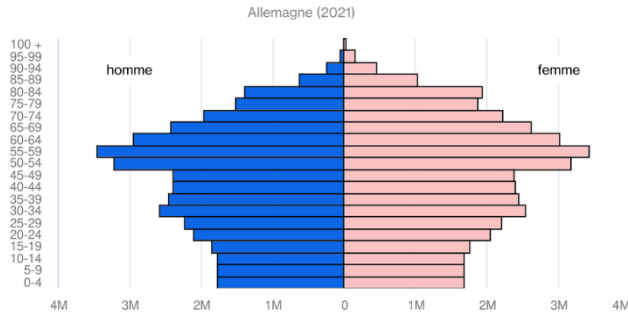


Фотосуретте қай көлдің суреті көрсетілген

- А) Каспий
- В) Арал

- C) Байкал
- D) Балқаш
- E) Зайсан

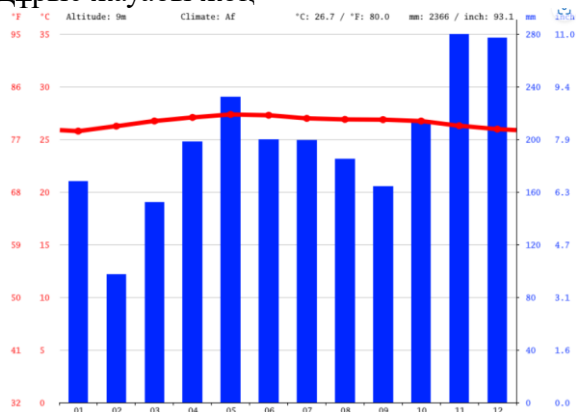
26 -30 аралығындағы сұрақтар 3 ұпаймен бағаланады.



26.

Қазіргі уақытта осындай демографиялық пирамидасы бар елдің халқы

- A) Жас
- B) Қартаю үдерісінде
- C) Қартайды
- D) Өсуде
- E) Дұрыс жауабы жоқ



27.

Берілген климатограмма сәйкес келеді

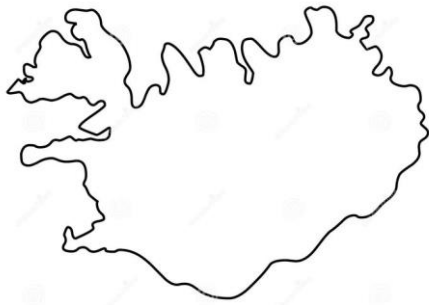
- A) Экваторлық белдеуге
- B) Тропикалық белдеуге
- C) Қоңыржай белдеуге
- D) Субарктикалық белдеуге
- E) Арктикалық белдеуге

28. Ангола мен Мозамбик қазіргі замандағы қай елдің колониялары болды

- A) Португалия
- B) Германия
- C) Испания
- D) Франция
- E) Ұлыбритания

29. Қазақстанның құрлықтағы ең төмен нүктесі

- A) Қарақия ойысы
- B) Зайсан ойысы
- C) Ащыкөл ойысы
- D) Ащысор
- E) Бұқтырма ойысы



30.

Фотосуретте қай арал мемлекетінің контуры көрсетілген

- A) Куба
- B) Гаити
- C) Ямайка
- D) Исландия
- E) Мадагаскар

Сәттілік тілейміз!

Барлығы 50 ұпай